

Klausur vom 28.07.2017

Name

Vorname

Studiengang

Matrikelnummer

Es ist erlaubt, eine handgeschriebene Formelsammlung im Umfang eines einseitig beschriebenen DIN A4-Blattes zu benutzen. Andere Hilfsmittel sind nicht erlaubt. Es wird ausdrücklich darauf hingewiesen, dass keinerlei elektronische Hilfsmittel benutzt werden dürfen. Hierzu zählen insbesondere Taschenrechner, Laptops und Handys.

Ich bestätige meine Prüfungsfähigkeit.

Unterschrift

Tragen Sie Nebenrechnungen und die Endergebnisse ausschließlich in die dafür vorgesehenen Kästen ein. Separat abgegebene Blätter werden nicht bewertet.

Aufgabe	T	A1	A2	A3	A4	Σ
Punkte						
Erreichte Punkte						
Handzeichen						

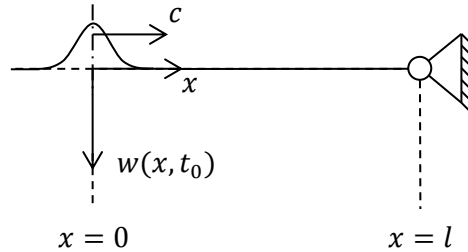
Theorieaufgaben

[10 Punkte]

Aufgabe T1

[2 Punkte]

In einer Saite läuft die skizzierte Transversalwelle mit der Wellenausbreitungsgeschwindigkeit c auf das Lager bei $x = l$ zu. Ihr Maximum ist zum Zeitpunkt $t_0 = 0$ bei $x = 0$. Skizzieren Sie in den beiden unteren Diagrammen die Verschiebungen $w(x, t_1)$ mit $t_1 = \frac{l}{c}$ bzw. $w(x, t_2)$ mit $t_2 = \frac{2l}{c}$.



<p>$t = t_1 = \frac{l}{c}$</p>	<p>$t = t_2 = \frac{2l}{c}$</p>
---	--

Aufgabe T2

[1 Punkt]

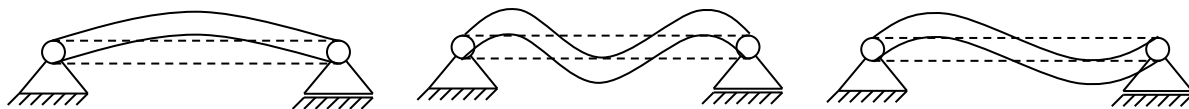
Die eindimensionale Wellengleichung $\ddot{w}(x, t) - c^2 w''(x, t) = 0$ besitzt die Lösung $w(x, t) = f_1(x - ct) + f_2(x + ct)$. Was beschreibt der Ausdruck $f_2(x + ct)$ dabei anschaulich? Kreuzen Sie alle richtigen Antworten an.

- | | |
|--------------------------|---|
| <input type="checkbox"/> | eine mit der Geschwindigkeit c in negative x -Richtung laufende Welle |
| <input type="checkbox"/> | eine mit der Geschwindigkeit c in positive x -Richtung laufende Welle |
| <input type="checkbox"/> | eine Schwingung mit steigender Amplitude |
| <input type="checkbox"/> | eine Schwingung mit fallender Amplitude |

Aufgabe T3

[1 Punkt]

Der skizzierte Balken besitzt die niedrigsten drei Eigenfrequenzen 100 Hz, 400 Hz und 900 Hz. Ordnen Sie die jeweiligen Eigenfrequenzen den unten abgebildeten Schwingformen zu.

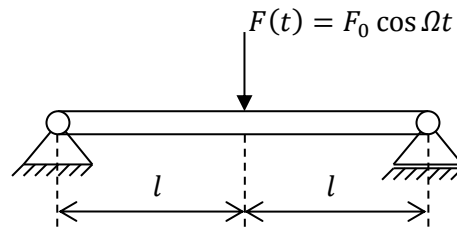


$f =$	$f =$	$f =$
-------	-------	-------

Aufgabe T4

[1 Punkt]

Gegeben ist der rechts skizzierte statisch bestimmt gelagerte homogene Euler-Bernoulli-Balken mit konstantem Querschnitt, welcher mittig mit der Einzellast $F(t) = F_0 \cos \Omega t$ zu Schwingungen angeregt wird. Kreuzen Sie alle wahren Aussagen an.

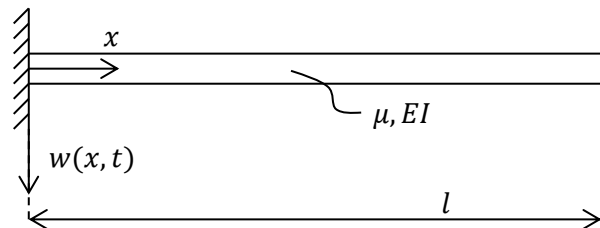


<input type="checkbox"/>	Wenn die Erregerkreisfrequenz Ω gleich der ersten Eigenkreisfrequenz ω_1 ist, tritt Resonanz auf.
<input type="checkbox"/>	Wenn die Erregerkreisfrequenz Ω gleich der zweiten Eigenkreisfrequenz ω_2 ist, tritt Resonanz auf.
<input type="checkbox"/>	eine Erhöhung der Amplitude F_0 führt zu einer Erhöhung der Eigenkreisfrequenz ω_1
<input type="checkbox"/>	eine Erhöhung der Amplitude F_0 führt zu einer Verringerung der Eigenkreisfrequenz ω_1

Aufgabe T5

[1 Punkt]

Gegeben ist der skizzierte Euler Bernoulli Balken mit einer festen Einspannung bei $x = 0$ und der Länge l . Unter Verwendung des Rayleigh-Quotienten soll eine Abschätzung für die erste Eigenkreisfrequenz der Biegeschwingung gemacht werden. Geben Sie eine zulässige Ansatzfunktion $\tilde{W}_1(x)$ an

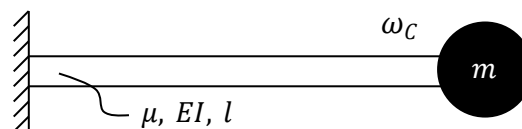
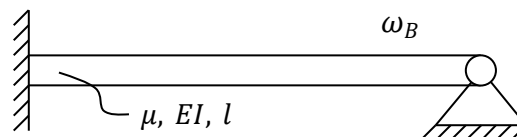
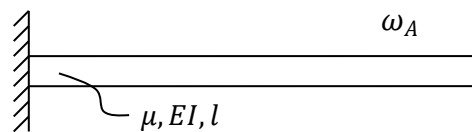


$\tilde{W}_1(x) =$

Aufgabe T6

[1 Punkt]

Die drei skizzierten Euler-Bernoulli-Balken unterscheiden sich lediglich in ihren Randbedingungen. Die zu jedem System gehörende erste Eigenkreisfrequenz sei jeweils ω_A, ω_B bzw. ω_C . Sortieren Sie diese nach Ihrer Größe.

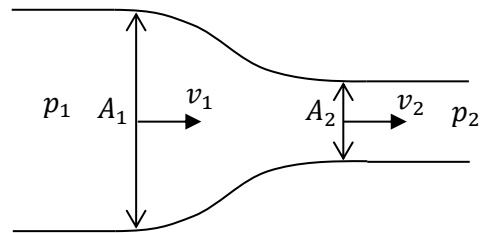


< <

Aufgabe T7

[1 Punkt]

Eine ideale Flüssigkeit strömt durch ein Rohr mit variablem Querschnitt $A_1 > A_2$. Kreuzen Sie alle richtigen Aussagen an.

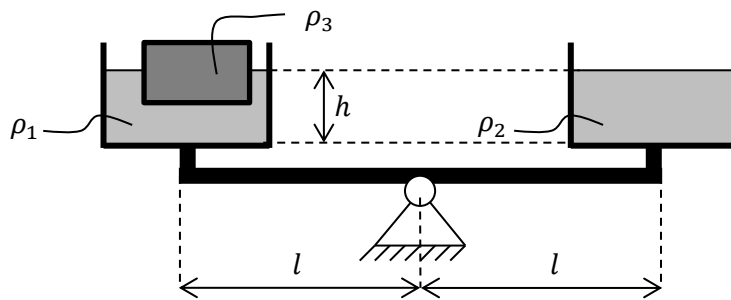


<input type="checkbox"/> $v_1 < v_2$	<input type="checkbox"/> $v_1 > v_2$	<input type="checkbox"/> $v_1 = v_2$
--------------------------------------	--------------------------------------	--------------------------------------

Aufgabe T8

[2 Punkte]

Die unten skizzierte Waage befindet sich im Gleichgewicht. Beide Behälter sind identisch und mit Flüssigkeiten (Dichte ρ_1 bzw. ρ_2) mit gleichem Füllstand h gefüllt. Im linken Behälter schwimmt zusätzlich ein Körper mit der Dichte ρ_3 .

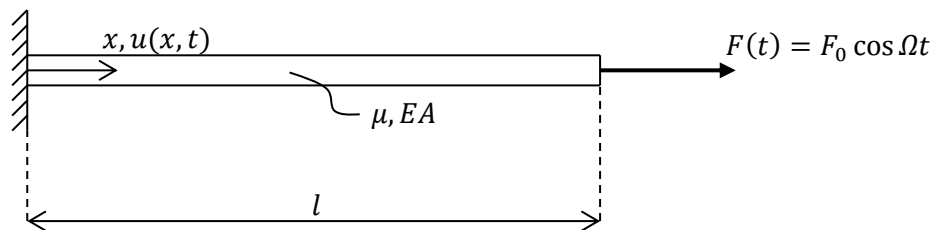


Kreuzen Sie alle richtigen Aussagen an.

<input type="checkbox"/> $\rho_1 < \rho_3$	<input type="checkbox"/> $\rho_1 > \rho_3$	<input type="checkbox"/> $\rho_1 = \rho_3$
<input type="checkbox"/> $\rho_1 < \rho_2$	<input type="checkbox"/> $\rho_1 > \rho_2$	<input type="checkbox"/> $\rho_1 = \rho_2$

Aufgabe 1

[12 Punkte]



Gegeben ist der wie skizziert gelagerte Stab (Masse pro Länge $\mu = \rho A$, Dehnsteifigkeit EA , Länge l), der durch die Kraft $F(t) = F_0 \cos \Omega t$ zu Längsschwingungen $u(x, t)$ angeregt wird.

Gegeben: $A, E, l, \rho, F_0, \Omega$

- a) Geben Sie die Feldgleichung und die Randbedingungen an (Herleitung ist nicht notwendig).

Ergebnis:

- b) Bestimmen Sie für $F(t) \equiv 0$ die Eigenkreisfrequenzen ω_k und die Eigenformen $U_k(x)$ des Stabs.

Rechnung:

$\omega_k =$	$U_k(x) =$

- c) $F(t)$ sei nun mit $F(t) = F_0 \cos \Omega t$ gegeben. Bestimmen Sie mit dem Ansatz $u_p(x, t) = U_p(x) \cos \Omega t$ eine Lösung für die Zwangsschwingungen.

Rechnung:

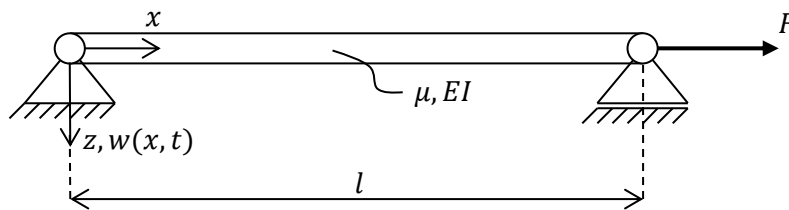
$u_p(x, t) =$

d) Für welche Erregerkreisfrequenzen Ω tritt Resonanz auf?

Rechnung:
$\Omega =$

Aufgabe 2

[8 Punkte]



Gegeben ist der skizzierte mit der Kraft F vorgespannte Balken (Masse pro Länge μ , Biegesteifigkeit EI , Länge l). Seine Feldgleichung ist

$$\mu \ddot{w}(x, t) + EI w^{IV}(x, t) - F w^{II}(x, t) = 0$$

Gegeben: μ, EI, l, F

a) Geben Sie die Randbedingungen an.

Ergebnis:

b) Mit der Funktion $\tilde{W}_1(x) = \sin\left(\pi \frac{x}{l}\right)$ soll eine Näherung für die erste Eigenkreisfrequenz mit Hilfe des Rayleigh-Quotienten bestimmt werden. Zeigen Sie, dass $\tilde{W}_1(x)$ eine zulässige Funktion ist.

Ergebnis:

c) Gegeben sei nun der Rayleigh-Quotient mit

$$\tilde{\omega}_1^2 = \frac{\int_0^l (EI \tilde{W}_1''^2(x) + F \tilde{W}_1'^2(x)) dx}{\int_0^l \mu \tilde{W}_1^2(x) dx}.$$

Bestimmen Sie $\tilde{\omega}_1$ unter Verwendung der Ansatzfunktion $\tilde{W}_1(x) = \sin\left(\pi \frac{x}{l}\right)$.

Hinweis:

- 1) $\int \sin^2(\alpha) d\alpha = \frac{1}{2}(\alpha - \sin(\alpha) \cos(\alpha)) = \frac{1}{2}\left(\alpha - \frac{1}{2} \sin(2\alpha)\right)$
- 2) $\int \cos^2(\alpha) d\alpha = \frac{1}{2}(\alpha + \sin(\alpha) \cos(\alpha)) = \frac{1}{2}\left(\alpha + \frac{1}{2} \sin(2\alpha)\right)$

Rechnung:

$\tilde{\omega}_1 =$

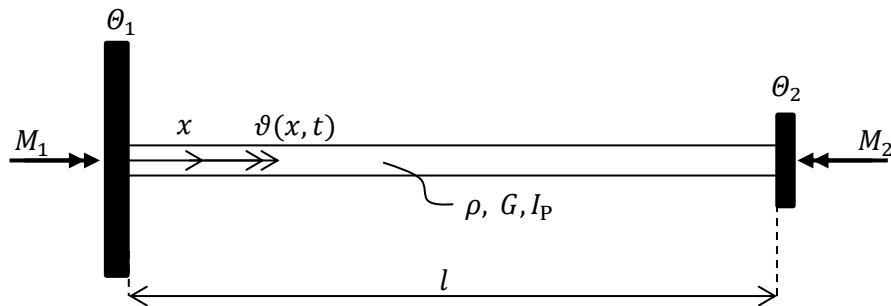
d) Bestimmen Sie mit dem Ergebnis aus c) die zugehörige Knicklast \tilde{F}_{krit} .

Rechnung:

$\tilde{F}_{\text{krit}} =$

Aufgabe 3

[9 Punkte]



Das skizzierte Modell eines Antriebsstrangs besteht aus zwei diskreten Drehmassen (starre Körper, Massenträgheitsmoment θ_1 bzw. θ_2 bezüglich der Drehachse) sowie dem dargestellten Torsionsstab (Dichte ρ , Schubmodul G , polares Flächenträgheitsmoment I_P , Länge l). Er wird bei $x = 0$ mit dem Moment M_1 und bei $x = l$ mit dem Moment M_2 belastet. Mit dem **Prinzip von Hamilton** sollen die Feldgleichung sowie die dynamischen Randbedingungen bestimmt werden.

Gegeben: $\rho, G, I_P, l, M_1, M_2, \theta_1, \theta_2,$

- a) Geben Sie die kinetische Energie T und die potentielle Energie U des Systems an.

Hinweis: Für einen starren Körper mit der Winkelgeschwindigkeit ω und dem Massenträgheitsmoment θ bezüglich der Drehachse ist die kinetische Energie $T = \frac{1}{2} \theta \omega^2$.

$T =$

$U =$

- b) Formulieren Sie die virtuelle Arbeit δW der potentiallosen Kräfte und Momente.

$\delta W =$

- c) Existieren geometrische Randbedingungen? Wenn ja, geben Sie diese an.

Ergebnis:

- d) Bestimmen Sie mit dem **Prinzip von Hamilton** die Feldgleichung sowie die dynamische(n) Randbedingung(en).

Rechnung:

Rechnung:

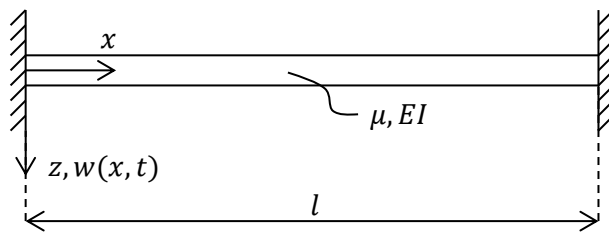
Rechnung:

Feldgleichung:

dynamische Randbedingung(en):

Aufgabe 4

[11 Punkte]



Gegeben ist der skizzierte, beidseitig fest eingespannte Euler-Bernoulli-Balken (Masse pro Länge μ , Biegesteifigkeit EI , Länge l)

Gegeben: μ, EI, l

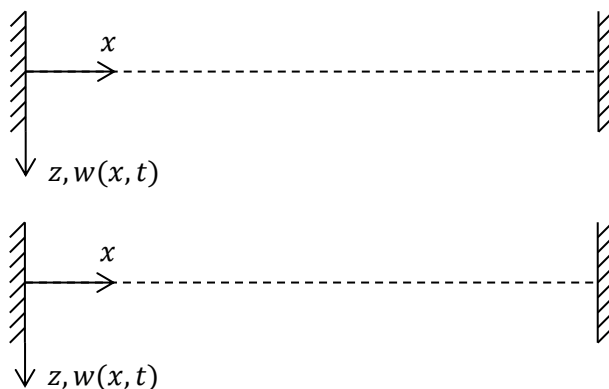
- a) Geben Sie die Feldgleichung und die Randbedingungen an.

Feldgleichung:

Randbedingungen:

- b) Skizzieren Sie die zwei Eigenformen, die zu den beiden niedrigsten Eigenkreisfrequenzen gehören (ohne Rechnung).

Skizze:



- c) Setzen Sie den Ansatz $w(x, t) = W(x) \sin(\omega t)$ in die Feldgleichung ein, und bestimmen Sie die Differentialgleichung für $W(x)$.

Rechnung:

Differentialgleichung:

- d) Geben Sie die allgemeine Lösung für $W(x)$ an. Verwenden Sie dabei die Abkürzung $\lambda^4 = \frac{\mu\omega^2}{EI}$

$W(x) =$

- e) Berechnen Sie die Charakteristische Gleichung für die Bestimmung von λ durch Anpassen der allgemeinen Lösung an die Randbedingungen.

Hinweise:

- 1) $1 = \sin^2(\alpha) + \cos^2(\alpha)$
 $1 = \cosh^2(\alpha) - \sinh^2(\alpha)$
- 2) Ein lineares Gleichungssystem der Form $\underline{A}\vec{r} = \vec{0}$ hat dann nichttriviale Lösungen, wenn die Determinante von \underline{A} Null ist.

Rechnung:

Rechnung:

Charakteristische Gleichung: